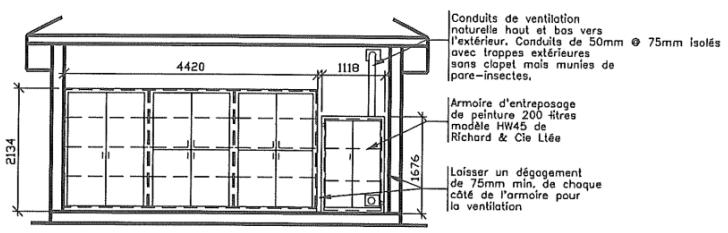
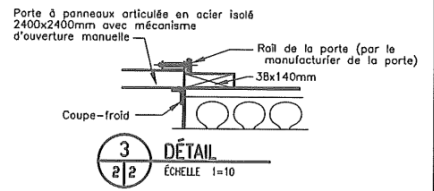


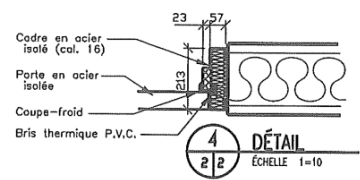
1 COUPE DE MUR TYPE  
ÉCHELLE 1=20



2 ÉLÉVATION MEUBLES  
ÉCHELLE 1=50



3 DÉTAIL  
ÉCHELLE 1=10



4 DÉTAIL  
ÉCHELLE 1=10

a) Quelles sont les composantes de la toiture?

---

---

---

b) Quelles sont les composantes du plafond?

---

---

---

---

c) Quelles sont les composantes des murs extérieurs?

---

---

---

---

---

---

---

---

---

---

d) De quel genre de fondation s'agit-il?

---

---

---

e) Quelles sont les dimensions extérieures du bâtiment?

---

f) Quelles sont les dimensions extérieures de l'entrepôt de matières dangereuses?

---

TEEB	CEGEP ANDRÉ-LAURENDEAU	<b>Cours-05</b>
EXERCICES	Interprétation des plans et devis	DR4
<p>g) Quelles sont les dimensions de l'armoire servant à entreposer la peinture?</p> <hr/> <p>h) Quelles sont les dimensions des autres armoires?</p> <hr/> <p>i) Quelles sont les dimensions de la trappe d'accès à l'entretoit?</p> <hr/> <p>j) Quelles sont les dimensions de l'établi?</p> <hr/> <p>k) Quelles sont les dimensions de la porte à panneaux (articulés)?</p> <hr/> <p>l) Quelles sont les dimensions des portes de service (avant et arrière)?</p> <hr/> <hr/> <p>m) Quelle est la hauteur totale du bâtiment?</p> <hr/> <p>n) Quelle est la pente du toit?</p> <hr/> <p>o) De quel genre de porte de service s'agit-il?</p> <hr/> <p>p) Quel genre de revêtement extérieur se trouve sur la toiture?</p> <hr/> <p>q) Quel genre de revêtement extérieur se trouve sur les murs extérieurs?</p> <hr/> <p>r) Quel genre de revêtement extérieur se trouve sur l'entrepôt de matériaux?</p> <hr/>		